

**ZADANIA SPRAWDZAJĄCE
WIADOMOŚCI TEORETYCZNE UCZNIĄ
UBIEGAJĄCEGO SIĘ O KARTĘ ROWEROWĄ**

nr 1

Uważnie przeczytaj pytania, zanim udzielisz odpowiedzi.

1. Czy piesi mogą korzystać z jezdni?

- A. Mogą, jeśli nie ma chodnika, pobocza, ścieżki.
- B. Nie mogą w żadnym przypadku.
- C. Mogą z ograniczeniem, tylko w warunkach dobrej widoczności.

2. Rowerzysta korzystając z drogi (ścieżki) dla rowerów i pieszych:

- A. Ma pierwszeństwo przed pieszymi i innymi pojazdami.
- B. Nie ma obowiązku ustępować pierwszeństwa pieszemu.
- C. Jest zobowiązany ustępować pierwszeństwa pieszemu.

3. Rowerzysta jest zobowiązany mieć przy sobie kartę rowerową i okazywać ją zawsze na żądanie:

- A. Straży leśnej, na obszarze zabudowanym.
- B. Policji, straży miejskiej.
- C. Umundurowanym policjantom poruszającym się tylko oznakowanym radiowozem.

4. Rowerzysta zobowiązany jest jechać:

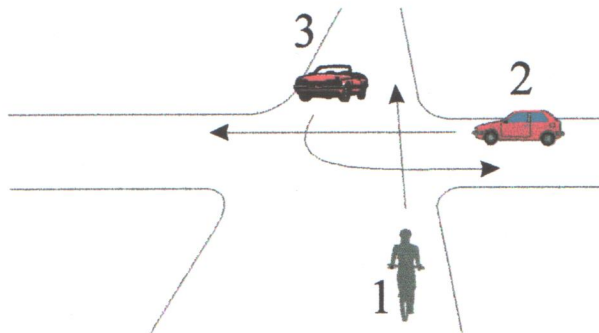
- A. Ścieżką dla pieszych.
- B. Po poboczu lub chodniku.
- C. Blisko prawej krawędzi jezdni.

5. Rowerzysta, zbliżając się do skrzyżowania dróg równorzędnych, jest zobowiązany:

- A. Ustąpić pierwszeństwa pojazdowi skręcającemu w lewo, także z lewej strony.
- B. Ustąpić pierwszeństwa pojazdowi nadjeżdżającemu z prawej strony, a także jadącemu na wprost lub skręcającemu w prawo.
- C. Ustąpić pierwszeństwa tylko pojazdom wykonującym pracę na drodze.

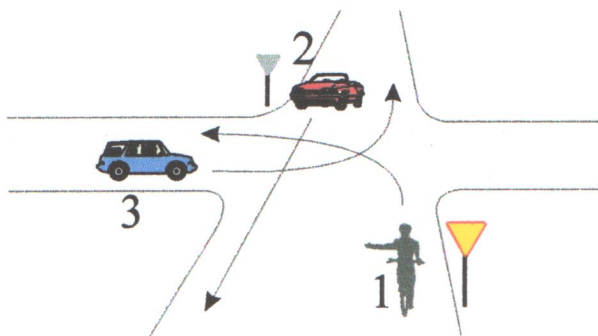
6. Na tym skrzyżowaniu kierujący rowerem 1:

- A. Ustępuje pierwszeństwa pojazdowi 2.
- B. Przejeżdża pierwszy.
- C. Przejeżdża ostatni.






7. Na tym skrzyżowaniu kierujący rowerem 1:




- A. Przejeżdża pierwszy.
- B. Ustępuje pierwszeństwa pojazdom 2 i 3.
- C. Ma pierwszeństwo przed pojazdem 3.





8. Który z poniższych znaków nie dotyczy skrzyżowania dróg?



9. Który z poniższych znaków zabrania wjazdu rowerem?



10. Który z poniższych sygnałów dotyczy tylko pieszych?



 nr 2

**ZADANIA SPRAWDZAJĄCE
WIADOMOŚCI TEORETYCZNE UCZNIĄ
UBIEGAJĄCEGO SIĘ O KARTĘ ROWEROWĄ**

Uważnie przeczytaj pytania, zanim udzielisz odpowiedzi.

1. W jakich miejscach wolno pieszym przekraczać jezdnię?

- A. Tylko w obrębie skrzyżowań dróg.
- B. W każdym miejscu.
- C. Na wyznaczonych przejściach, poza przejściami w miejscach widocznych.

2. Osoba, która ukończyła 17 lat, może przewozić rowerem dziecko do lat 7 pod warunkiem:

- A. Założenia strzemiączek na stopy.
- B. Przewożenia w przystosowanym siodełku lub foteliku.
- C. Przewożenia na bagażniku lub na ramie.

3. Jeżeli ruch na skrzyżowaniu jest kierowany przez policjanta, to należy stosować się do:

- A. Znaków drogowych obowiązujących na skrzyżowaniu.
- B. Sygnałów świetlnych.
- C. Sygnałów dawanych przez policjanta.

4. Jeżeli na jezdni są wyznaczone pasy ruchu, to rowerzysta:

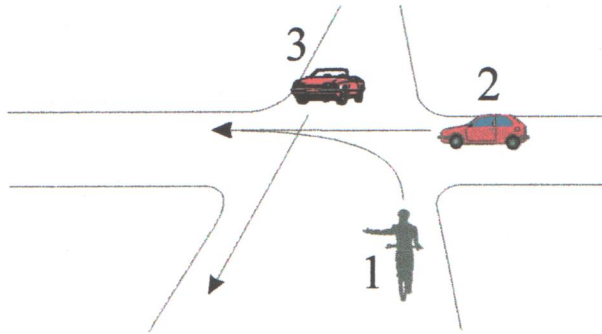
- A. Zobowiązany jest jechać skrajnym pasem znajdującym się na prawej połowie jezdni.
- B. Może zajmować więcej niż jeden pas ruchu (jechać "wężykiem").
- C. Może jechać dowolnie.

5. Pojazdy szynowe na skrzyżowaniu mają pierwszeństwo przejazdu:

- A. Jeśli wyjeżdżają z ulicy podporządkowanej.
- B. Na skrzyżowaniach dróg równorzędnych.
- C. Jeśli wyjeżdżają z zajezdni lub pętli tramwajowej.

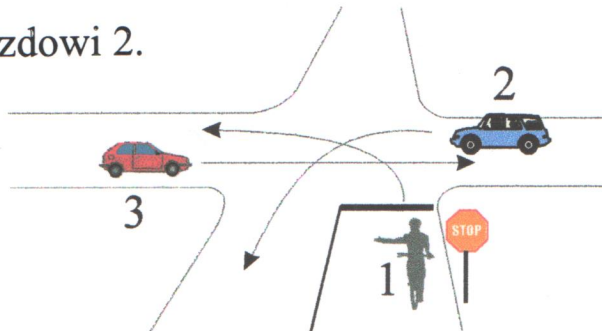
6. Na tym skrzyżowaniu rowerzysta 1:

- A. Przejeżdża ostatni.
- B. Przejeżdża przed pojazdem 2.
- C. Przejeżdża przed pojazdem 3.



7. Na tym skrzyżowaniu rowerzysta 1:


- A. Ustępuje pierwszeństwa tylko pojazdowi 2.
- B. Przejeżdża pierwszy.
- C. Przejeżdża ostatni.




8. Który z poniższych znaków zabrania wjazdu rowerom?




9. Który z poniższych znaków nakazuje jechać prosto?



10. Który z sygnałów nie zabrania wjazdu na skrzyżowanie?



nr 3

**ZADANIA SPRAWDZAJĄCE
WIADOMOŚCI TEORETYCZNE UCZNI
UBIEGAJĄCEGO SIĘ O KARTĘ ROWEROWĄ**

Uważnie przeczytaj pytania, zanim udzielisz odpowiedzi.

- 1. Kiedy pieszy powinien zrezygnować z przekraczania jezdni w dowolnym miejscu?**
 - A. W warunkach niedostatecznej widoczności (mgła, zmierzch, noc).
 - B. Jeśli w odległości bliższej niż 100 m znajduje się przejście dla pieszych.
 - C. Na skrzyżowaniach dróg i w ich pobliżu.

- 2. Dziecko do lat 7 może przewozić rowerem osoba, która:**
 - A. Ma kartę rowerową.
 - B. Ukończyła 17 lat i ma kartę rowerową.
 - C. Nie ukończyła 18 lat i nie ma karty rowerowej.

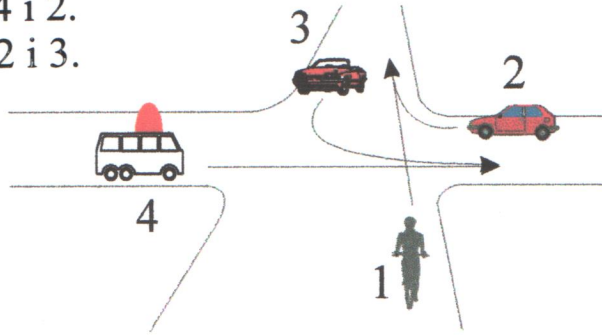
- 3. Po czym poznamy osobę lub pojazdy wykonujące roboty na drodze?**
 - A. Pojazdy używają żółtych sygnałów pulsacyjnych, osoby używają odzieży w kolorze pomarańczowym z elementami odblaskowymi, znaki na jezdni są barwy żółtej.
 - B. Używają tylko barierek ochronnych w miejscach przeprowadzanych prac.
 - C. Stosują ostrzeżenia.

- 4. Prowadzący rower lub wózek ręczny powinni poruszać się:**
 - A. Przepisy nie zezwalają na prowadzenie roweru.
 - B. Po chodniku.
 - C. Po poboczu, jeśli nadaje się do ruchu.

- 5. Czy rowerzysta może wjechać na skrzyżowanie, jeżeli nie ma miejsca na kontynuowanie jazdy?**
 - A. Może, jeśli zapalony jest sygnał zielony.
 - B. Może, pod warunkiem prowadzenia roweru.
 - C. Kierującemu zabrania się wjeżdżać.

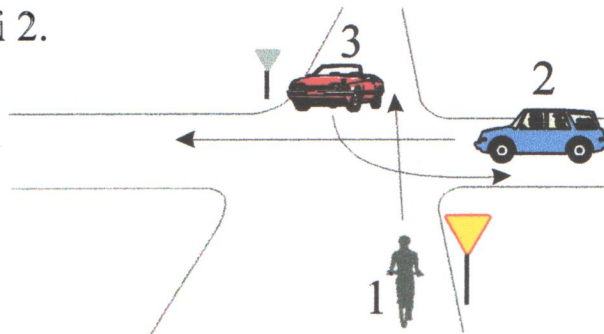
6. Na tym skrzyżowaniu rowerzysta 1:

- A. Przejeżdża pierwszy.
- B. Ustępuje pierwszeństwa pojazdom 4 i 2.
- C. Ustępuje pierwszeństwa pojazdom 2 i 3.



7. Na tym skrzyżowaniu rowerzysta 1:


- A. Ustępuje pierwszeństwa pojazdowi 2.
- B. Przejeżdża ostatni.
- C. Ustępuje pierwszeństwa pojazdowi 3.




8. Który z poniższych znaków nie dotyczy pieszych?



9. Który z poniższych znaków dotyczy wszystkich pojazdów?



10. Który z poniższych sygnałów zezwala na jazdę?



**ZADANIA SPRAWDZAJĄCE
WIADOMOŚCI TEORETYCZNE UCZNIĄ
UBIEGAJĄCEGO SIĘ O KARTĘ ROWEROWĄ**

nr 4

Uważnie przeczytaj pytania, zanim udzielisz odpowiedzi.

1. W jakich przypadkach przekraczanie jezdni jest zabronione?

- A. Jeżeli w pobliżu znajdują się podziemne lub naziemne przejścia dla pieszych.
- B. Jeżeli jezdnia ma więcej niż dwa pasy w jednym kierunku.
- C. Jeżeli równoległe do jezdni znajduje się torowisko tramwajowe nie wyodrębnione z jezdni.

2. Rowerzyście zabrania się:

- A. Kierowania rowerem jedną ręką.
- B. Jazdy po jezdni obok innego uczestnika ruchu.
- C. Wyprzedzania innych pojazdów.

3. Kiedy dzieci mogą korzystać z drogi bez opieki poza strefą zamieszkania:

- A. Po ukończeniu 5 lat.
- B. Po ukończeniu 13 lat.
- C. Po ukończeniu 7 lat lub pod opieką osoby, która ukończyła co najmniej 10 lat.

4. Kiedy następuje włączanie się do ruchu?

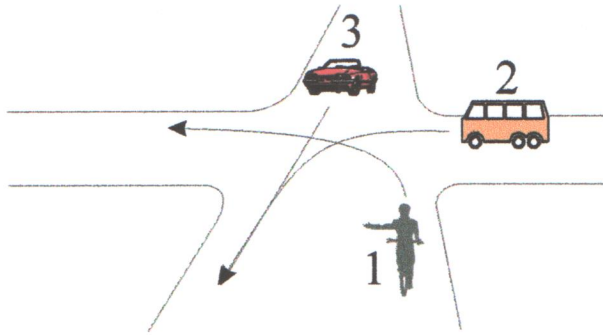
- A. Po podniesieniu zapór drogowych na przejeździe kolejowym.
- B. Przy wyjeżdżaniu z nieruchomości lub obiektu przydrożnego.
- C. Po zatrzymaniu się w celu udzielenia pierwszeństwa przejazdu.

5. Rowerzysta, zbliżając się do przejścia dla pieszych:

- A. Jest zobowiązany ustąpić pierwszeństwa pieszym, znajdującym się na przejściu.
- B. Nie ma obowiązku udzielenia pierwszeństwa pieszym.
- C. Może kontynuować jazdę, jeśli pieszy zatrzyma się na przejściu w celu przepuszczenia rowerzysty.

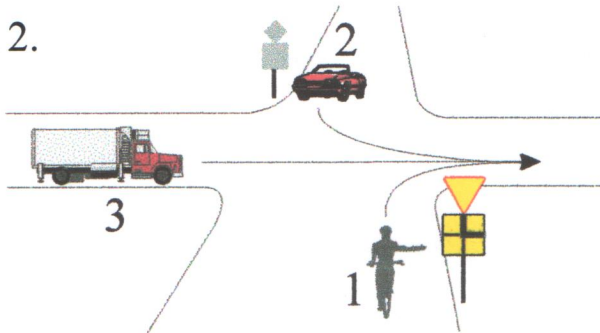
6. Na tym skrzyżowaniu rowerzysta 1:

- A. Ma pierwszeństwo przed pojazdem 2.
- B. Przejeżdża ostatni.
- C. Przejeżdża pierwszy.



7. Na tym skrzyżowaniu rowerzysta 1:

- A. Ustupuje pierwszeństwa pojazdowi 2.
- B. Przejeżdża pierwszy.
- C. Przejeżdża ostatni.



8. Który z poniższych znaków ostrzega przed wypadkiem?

A



B



C



9. Który z poniższych znaków zezwala na chodzenie wzdłuż jezdni?

A



B



C



10. Który z poniższych sygnałów dotyczy przejazdu kolejowego?

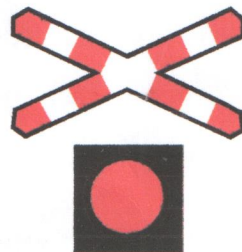
A



B



C



**ZADANIA SPRAWDZAJĄCE
WIADOMOŚCI TEORETYCZNE UCZNIĄ
UBIEGAJĄCEGO SIĘ O KARTĘ ROWEROWĄ**

nr 5

Uważnie przeczytaj pytania, zanim udzielisz odpowiedzi.

1. Czy pieszy może przekraczać jezdnię tuż przed nadjeżdżającym pojazdem?

- A. Tak, przed pojazdem wolno poruszającym się np. ciągnikiem rolniczym.
- B. Nie, kierowca powinien zatrzymać pojazd.
- C. Jest to niebezpieczne, a zatem nie wolno ryzykować zdrowia lub życia.

2. Rowerzyście zabrania się:

- A. Jazdy z trzymaniem nóg na podnóżkach.
- B. Jazdy "wężykiem" poza jezdnią.
- C. Jazdy po jezdni bez trzymania kierownicy.

3. Dziecko w wieku od 7 do 15 lat, poruszające się po drodze po zmierzchu, poza obszarem zabudowanym, jest zobowiązane:

- A. Mieć na odzieży elementy odblaskowe.
- B. Nieść w lewym ręku latarkę z białym światłem.
- C. Iść prawą stroną drogi.

4. Włączanie się do ruchu następuje:

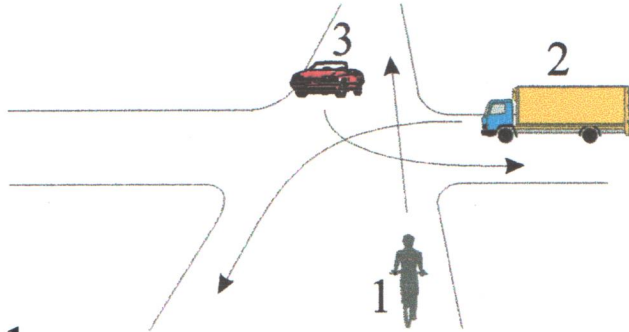
- A. Po otwarciu ruchu w naszym kierunku.
- B. Przy wyjeżdżaniu z drogi gruntowej na drogę twardą.
- C. Przy zmianie pasa ruchu na jezdni.

5. Kierujący, zbliżając się do ścieżki rowerowej:

- A. Nie ustępuje pierwszeństwa rowerzystom, poruszającym się na ścieżce rowerowej.
- B. Jest zobowiązany ustąpić pierwszeństwa rowerzystom znajdującym się na ścieżce rowerowej.
- C. Ustępuje pierwszeństwa tylko pieszym.

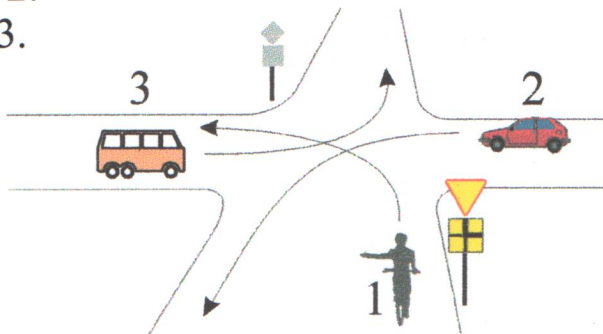
6. Na tym skrzyżowaniu rowerzysta 1:

- A. Ustępuje pierwszeństwa pojazdowi 2.
- B. Przejeżdża ostatni.
- C. Przejeżdża pierwszy.



7. Na tym skrzyżowaniu rowerzysta 1:

- A. Ustępuje pierwszeństwa pojazdowi 2.
- B. Ustępuje pierwszeństwa pojazdom 3.
- C. Przejeżdża pierwszy.




8. Który z poniższych znaków określa pierwszeństwo na zwężonym odcinku drogi?


A



B



C



9. Który z poniższych znaków ostrzega przed dziećmi znajdującymi się na drodze?

A



B



C




10. Który z sygnałów dotyczy przejazdu kolejowego wielotorowego?


A



B



C



**ZADANIA SPRAWDZAJĄCE
WIADOMOŚCI TEORETYCZNE UCZNIĄ
UBIEGAJĄCEGO SIĘ O KARTĘ ROWEROWĄ**

nr 6

Uważnie przeczytaj pytania, zanim udzielisz odpowiedzi.

1. Jak postąpić, przekraczając jezdnię, jeśli do przejścia zbliża się tramwaj?

- A. Odczekać, aż przejedzie. Sprawdzić, czy z przeciwnego kierunku nie nadjeżdża tramwaj lub inny pojazd.
- B. Przejść po przejechaniu tramwaju.
- C. Przepisy nie pozwalają na przechodzenie przez torowiska.

2. Rowerzyście zabrania się:

- A. Przewożenia dzieci lub osób rowerem wieloosobowym.
- B. Jazdy z jedną ręką na kierownicy.
- C. Jazdy bez trzymania nóg na pedałach.

3. Jak zachować się, widząc wypadek drogowy?

- A. Usunąć się z miejsca zagrożenia.
- B. Nie włączać się do udzielania pomocy ofiarom wypadku.
- C. Jak najszybciej oddalić się z miejsca wypadku.

4. Jaki manewr wykonuje rowerzysta, wyjeżdżając ze strefy zamieszkania?

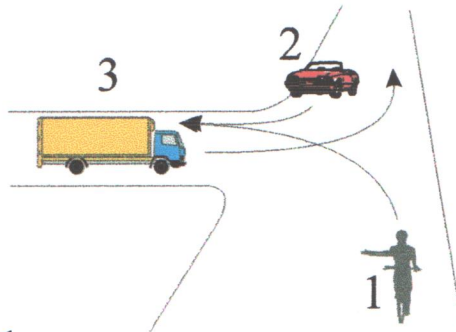
- A. Zmienia pas ruchu.
- B. Zmienia kierunek jazdy.
- C. Włącza się do ruchu.

5. Kierujący pojazdem, skręcając w drogę poprzeczną w prawo, jest zobowiązany :

- A. Ustąpić pierwszeństwa pieszym przechodzącym na skrzyżowaniu przez jezdnię drogi, na którą wjeżdża.
- B. Nie ma obowiązku ustępowania pierwszeństwa pieszym.
- C. Jechać, nie zwracając uwagi na pieszych, którzy muszą mu ustąpić pierwszeństwa.

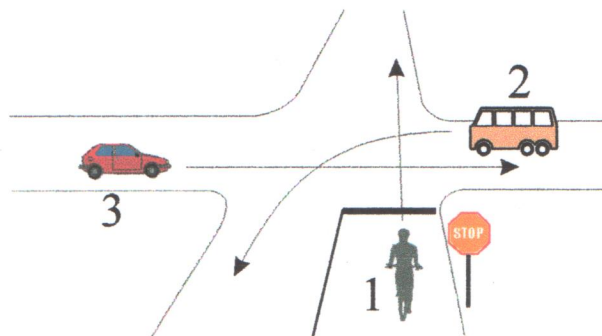
6. Na tym skrzyżowaniu rowerzysta 1:

- A. Ustępuje pierwszeństwa pojazdowi 2.
- B. Przejeżdża pierwszy.
- C. Przejeżdża ostatni.




7. Na tym skrzyżowaniu rowerzysta 1:

- A. Przejeżdża przed pojazdem 2.
- B. Przejeżdża przed pojazdem 3.
- C. Przejeżdża ostatni.




8. Który z poniższych znaków oznacza "zakaz ruchu w obu kierunkach"?



9. Który z poniższych znaków zabrania poruszać się rowerem?



10. Który z poniższych znaków dotyczy przejazdu tramwajowego?



**ZADANIA SPRAWDZAJĄCE
WIADOMOŚCI TEORETYCZNE UCZNIĄ
UBIEGAJĄCEGO SIĘ O KARTĘ ROWEROWĄ**

nr 7

Uważnie przeczytaj pytania, zanim udzielisz odpowiedzi.

1. Czy pieszym wolno przekraczać wyodrębnione torowiska tramwajowe?

- A. Z uwagi na grożące niebezpieczeństwo piesi nie mogą przechodzić przez torowiska.
- B. Tak, jeżeli nie ma urządzeń odgradzających torowiska.
- C. Tak, ale tylko na przejściach dla pieszych.

2. Rowerzyście zabrania się:

- A. "Trzymania się" pojazdów.
- B. Przewożenia małych pakunków.
- C. Wożenia drugiej osoby.

3. Co jest zabronione pasażerom samochodu osobowego?

- A. Rozmawianie w samochodzie.
- B. Spożywanie posiłków w czasie jazdy.
- C. Otwieranie drzwi, wysiadanie na jezdnię bez upewnienia się, że nie spowoduje to zagrożenia bezpieczeństwa ruchu.

4. Włączający się do ruchu jest zobowiązany:

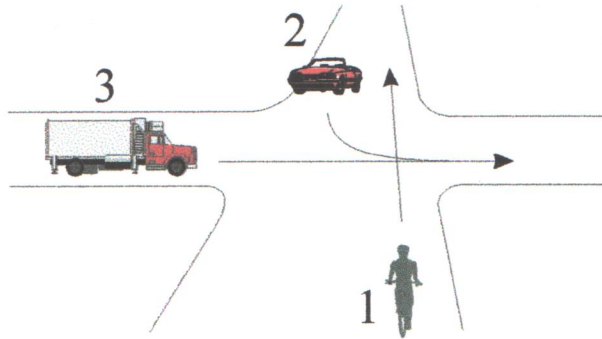
- A. Ustąpić pierwszeństwa pojazdom lub osobom będącym w ruchu.
- B. Ustąpić pierwszeństwa tylko pojazdom samochodowym.
- C. Ustąpić pierwszeństwa tylko tramwajom wyjeżdżającym z pętli lub zajezdni na drogę.

5. Jak powinien zachować się rowerzysta, jeśli przed przejściem dla pieszych zatrzymał się samochód w celu ustąpienia pierwszeństwa pieszym?

- A. Kontynuować jazdę, omijając samochód.
- B. Bezwłocznie zatrzymać się.
- C. Wymóc zatrzymanie się na przejściu pieszych, podjąć jazdę.

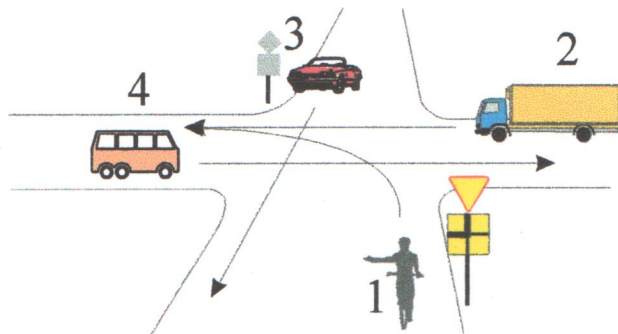
6. Na tym skrzyżowaniu rowerzysta 1:

- A. Ustępuje pierwszeństwa tylko pojazdowi 2.
- B. Przejeżdża pierwszy.
- C. Przejeżdża ostatni.



7. Na tym skrzyżowaniu rowerzysta 1:

- A. Przejeżdża ostatni.
- B. Przejeżdża pierwszy.
- C. Ustępuje pierwszeństwa tylko pojazdowi 3.




8. Który z poniższych znaków dotyczy zakazu ruchu pieszych?



9. Który z poniższych znaków dotyczy ścieżek dla pieszych?



10. Jaka pozycja kierującego ruchem zezwala na wjazd na skrzyżowanie?



**ZADANIA SPRAWDZAJĄCE
WIADOMOŚCI TEORETYCZNE UCZNIĄ
UBIEGAJĄCEGO SIĘ O KARTĘ ROWEROWĄ**

nr 8

Uważnie przeczytaj pytania, zanim udzielisz odpowiedzi.

- 1. W którym miejscu zezwala się przejść z chodnika na wysepkę przystankową, jeżeli jest wyznaczone przejście?**
 - A. Tylko po nim.
 - B. W każdym miejscu, również poza przejściem.
 - C. W każdym miejscu, jeżeli na przystanku zatrzymał się tramwaj.

- 2. Na jezdni rowerzyście nie wolno:**
 - A. Zajeżdzać drogi innym pojazdom.
 - B. Zmieniać pasa ruchu.
 - C. Kierować rowerem wieloosobowym "tandem".

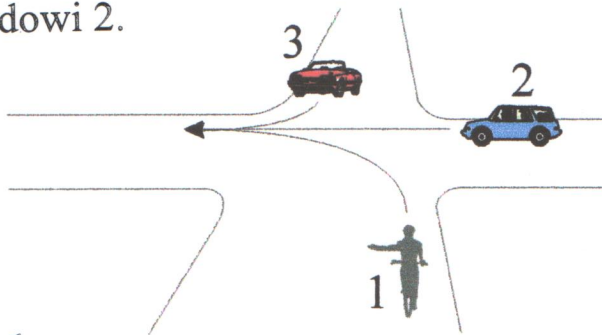
- 3. Co jest zabronione pasażerom samochodu osobowego w czasie jazdy?**
 - A. Wyrzucanie różnych przedmiotów przez uchylone okno.
 - B. Dzielenie się z kierowcą swymi spostrzeżeniami.
 - C. Rozmawianie z sąsiadem.

- 4. Rowerzysta, zbliżając się do przystanku autobusowego, jest zobowiązany:**
 - A. Zatrzymać się, jeżeli na przystanku zatrzymał się autobus.
 - B. Zatrzymać się na obszarze zabudowanym, jeśli kierujący autobusem włączył lewy kierunkowskaz.
 - C. Kontynuować jazdę bez względu na sytuację na drodze.

- 5. Rowerzysta, przejeżdżając przez chodnik lub drogę (ścieżkę) dla pieszych:**
 - A. Ustupuje pierwszeństwa tylko osobom niewidomym lub dzieciom poruszającym się w kolumnie.
 - B. Ma pierwszeństwo przed pieszymi.
 - C. Ustupuje pierwszeństwa pieszym.

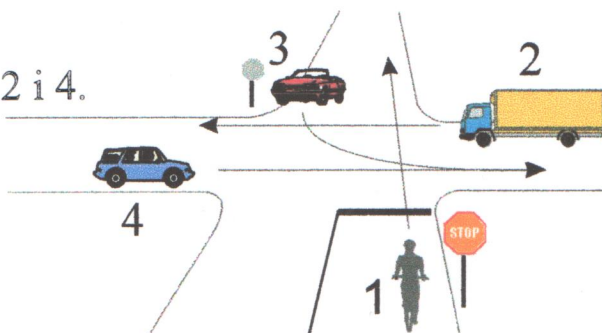
6. Na tym skrzyżowaniu rowerzysta 1:

- A. Przejeżdża pierwszy.
- B. Ustępuje pierwszeństwa tylko pojazdowi 2.
- C. Przejeżdża ostatni.



7. Na tym skrzyżowaniu rowerzysta 1:

- A. Przejeżdża ostatni.
- B. Przejeżdża przed pojazdami 3 i 4.
- C. Ustępuje pierwszeństwa pojazdom 2 i 4.



8. Który z poniższych znaków dotyczy przejazdu dla rowerzystów?

A



B




C




9. Który z poniższych znaków oznacza "zakaz ruchu w obu kierunkach"?

A



B




C




10. Który z poniższych sygnaliów zezwala na przejście pieszych?

A



B



C



nr 9

**ZADANIA SPRAWDZAJĄCE
WIADOMOŚCI TEORETYCZNE UCZNIA
UBIEGAJĄCEGO SIĘ O KARTĘ ROWEROWĄ**

Uważnie przeczytaj pytania, zanim udzielisz odpowiedzi.

1. Pieszemu nie wolno:

- A. Przechodzić przez torowiska znajdujące się na jezdni.
- B. Chodzić po torowisku.
- C. Przechodzić przez torowiska na wyznaczonych przejściach dla pieszych.

2. Rowerzyście zabrania się:

- A. Zatrzymywania się w miejscach stanowiących zagrożenie.
- B. Jazdy w kolumnie.
- C. Jazdy bez hełmu ochronnego.

3. Co uważamy za czyn karalny, graniczący ze zbrodniczym?

- A. Usuwanie znaków drogowych, wyłączanie sygnałów ostrzegawczych, zasłanianie sygnałów.
- B. Zaśmiecanie drogi.
- C. Umieszczanie wokół drogi reklam, napisów.

4. Rowerzysta powinien jechać z prędkością uwzględniając:

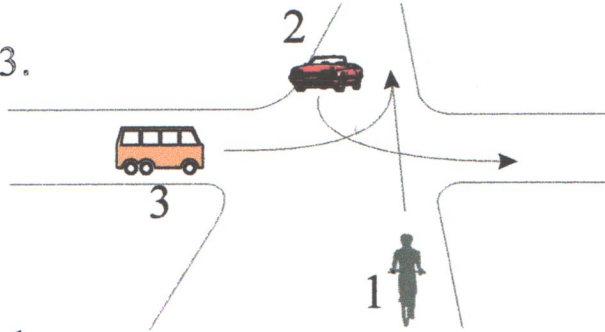
- A. Kolor roweru.
- B. Ubiór.
- C. Stan i widoczność drogi, natężenie ruchu na drodze.

5. Jeśli na przejściu znajdują się piesi, to rowerzysta:

- A. Ma pierwszeństwo przed pieszymi.
- B. Ustupuje pierwszeństwa pieszym.
- C. Ustupuje tylko osobom niepełnosprawnym oraz kolumnie pieszych.

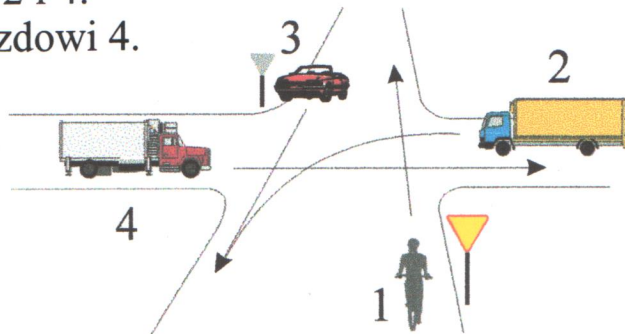
6. Na tym skrzyżowaniu rowerzysta 1:

- A. Przejeżdża ostatni.
- B. Przejeżdża pierwszy.
- C. Ustępuje pierwszeństwa pojazdowi 3.



7. Na tym skrzyżowaniu rowerzysta 1:

- A. Ustępuje pierwszeństwa pojazdom 2 i 4.
- B. Ustępuje pierwszeństwa tylko pojazdowi 4.
- C. Przejeżdża przed pojazdem 4.



8. Który z poniższych znaków oznacza zbliżanie się do drogi z pierwszeństwem przejazdu?



9. Który z poniższych znaków dotyczy wszystkich pojazdów?



10. Który z poniższych znaków dotyczy przystanku tramwajowego?



**ZADANIA SPRAWDZAJĄCE
WIADOMOŚCI TEORETYCZNE UCZNI
UBIEGAJĄCEGO SIĘ O KARTĘ ROWEROWĄ**

nr 10

Uważnie przeczytaj pytania, zanim udzielisz odpowiedzi.

1. Czy po jezdni mogą poruszać się kolumny pieszych?

- A. Tak, ale tylko po lewej stronie.
- B. Tak, zajmując całą szerokość.
- C. Tak, ale tylko po prawej stronie.

2. Jeżeli w obszarze zabudowanym dopuszcza się prędkość powyżej 60 km/h, to rowerzyście zezwala się:

- A. Na jazdę po chodniku z obowiązkiem ustąpienia pierwszeństwa pieszym.
- B. Korzystać z chodnika pod warunkiem prowadzenia roweru.
- C. Na jazdę "wężykiem".

3. Co utrudnia ruch i stwarza zagrożenie bezpieczeństwa?

- A. Zatrzymanie poza jezdnią na obszarze zabudowanym.
- B. Zatrzymanie w wyznaczonych zatoczkach postojowych dla pojazdów.
- C. Zatrzymanie w miejscu niewidocznym na jezdni oraz w warunkach niedostatecznej przejrzystości powietrza.

4. Rowerzysta nie powinien:

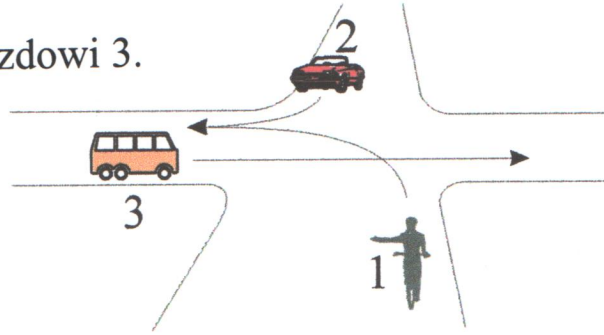
- A. Wyprzedzać innych rowerzystów jadących w tym samym kierunku.
- B. Omijać pojazdów zaparkowanych wzdłuż jezdni.
- C. Utrudniać jazdy innym kierującym lub tamować ruchu.

5. Jeżeli na przystanek wjeżdża tramwaj lub się na nim zatrzymał, to rowerzysta:

- A. Zapewnia przejście tylko wówczas, jeśli na jezdni jest wysepka dla pasażerów.
- B. Zatrzymuje się w takim miejscu, na taki czas aby, zapewnić pieszym swobodne dojście do tramwaju lub na chodnik.
- C. Ma prawo kontynuować jazdę omijając pieszych.

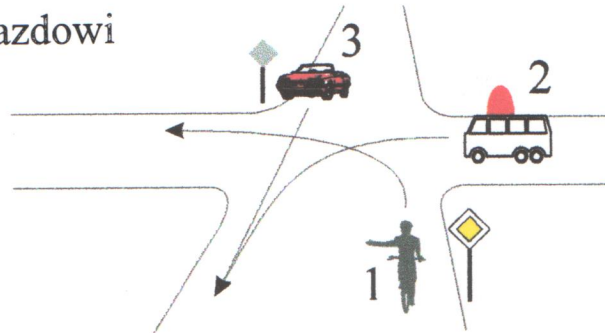
6. Na tym skrzyżowaniu rowerzysta 1:

- A. Ustępuje pierwszeństwa pojazdowi 2.
- B. Jedzie pierwszy.
- C. Ustępuje pierwszeństwa tylko pojazdowi 3.



7. Na tym skrzyżowaniu rowerzysta 1:

- A. Ustępuje pierwszeństwo tylko pojazdowi uprzywilejowanemu.
- B. Ustępuje pierwszeństwa pojazdom 2 i 3.
- C. Przejeżdża pierwszy.




8. Który z poniższych znaków dotyczy jezdni jednokierunkowej?



9. Który z poniższych znaków dotyczy drogi posiadającej pierwszeństwo przejazdu?



10. Który z poniższych sygnaliów zezwala na wjazd skręcającym w prawo?



nr 11

**ZADANIA SPRAWDZAJĄCE
WIADOMOŚCI TEORETYCZNE UCZNIA
UBIEGAJĄCEGO SIĘ O KARTĘ ROWEROWĄ**

Uważnie przeczytaj pytania, zanim udzielisz odpowiedzi.

1. Korzystając z jezdni pieszy powinien:

- A. Iść prawą stroną jezdni.
- B. Zajmować dowolną szerokość na jezdni.
- C. Zajmować miejsce jak najbliżej krawędzi jezdni.

2. Rowerzysta zbliżając się do ścieżki rowerowej:

- A. Nie ustępuje pierwszeństwa rowerzystom, poruszającym się na ścieżce rowerowej.
- B. Jest zobowiązany ustąpić pierwszeństwa rowerzystom znajdującym się na ścieżce rowerowej.
- C. Ustępuje tylko pieszym.

3. Jak zachować się w przypadku propozycji podwiezienia przez osobę nieznaną?

- A. Nie skorzystać z propozycji, bezzwłocznie oddalić się od samochodu.
- B. Uzgodnić trasę i koszty przejazdu.
- C. Z zadowoleniem skorzystać z nadarzającej się okazji.

4. Po czym poznajemy, że omijamy samochód ciężarowy z przyczepą?

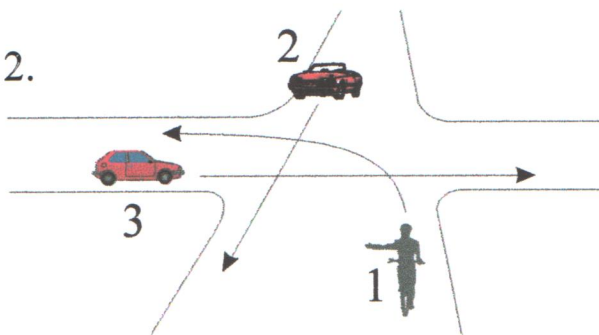
- A. Po prostokątnych tabliczkach koloru pomarańczowego z czerwoną obwódką umieszczonych z tyłu pojazdu.
- B. Po żółtej tablicy z tyłu pojazdu.
- C. Po pulsujących żółtych sygnałach.

5. Jeżeli przy torowisku tramwajowym znajduje się wysepka dla pasażerów, a do przystanku zbliża się tramwaj lub się na nim zatrzymał, to rowerzysta:

- A. Może kontynuować jazdę torowiskiem tramwajowym.
- B. Powinien obowiązkowo zatrzymać się.
- C. Może kontynuować jazdę chodnikiem, jeżeli na jezdni znajdują się piesi.

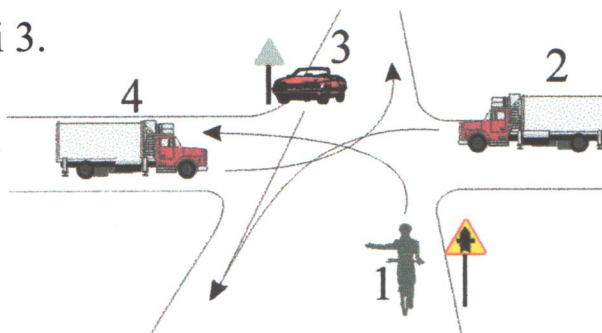
6. Na tym skrzyżowaniu rowerzysta 1:

- A. Ustępuje pierwszeństwa pojazdowi 3.
- B. Jedzie pierwszy.
- C. Ustępuje pierwszeństwa pojazdowi 2.




7. Na tym skrzyżowaniu rowerzysta 1:

- A. Ustępuje pierwszeństwa pojazdowi 3.
- B. Przejeżdża pierwszy.
- C. Przejeżdża ostatni.



8. Który z poniższych znaków zakazuje przepędzania zwierząt?

A



B



C




9. Który z poniższych znaków dotyczy dróg bez przejazdu?


A



B




C




10. Który z poniższych zestawów (znaków i tablic) jest prawidłowy?


A



B



C



nr 12

**ZADANIA SPRAWDZAJĄCE
WIADOMOŚCI TEORETYCZNE UCZNI
UBIEGAJĄCEGO SIĘ O KARTĘ ROWEROWĄ**

Uważnie przeczytaj pytania, zanim udzielisz odpowiedzi.

- 1. Jak powinien zachować się pieszy korzystający z jezdni, widząc nadjeżdżający z przeciwka pojazd?**
 - A. Ustąpić pierwszeństwa nadjeżdżającemu.
 - B. Przejść na prawą stronę jezdni.
 - C. Zatrzymać się na jezdni.

- 2. Liczba rowerów jadących w zorganizowanej kolumnie rowerowej nie może przekraczać:**
 - A. 5 rowerów jednośladowych.
 - B. 10 rowerów jednośladowych.
 - C. 15 rowerów jednośladowych.

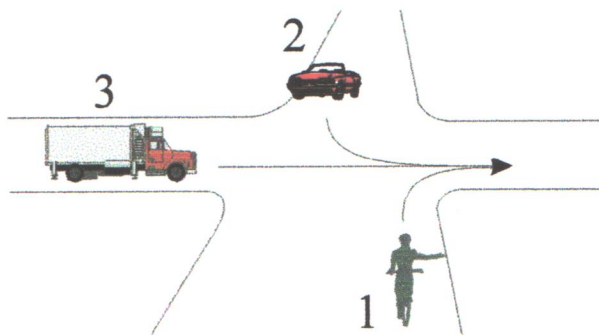
- 3. Co utrudnia ruch i stwarza zagrożenie bezpieczeństwa?**
 - A. Zatrzymanie w wyznaczonych zatoczkach postojowych dla pojazdów.
 - B. Zatrzymanie w miejscu niewidocznym na jezdni oraz w warunkach niedostatecznej przejrzystości powietrza.
 - C. Zatrzymanie poza jezdnią na obszarze zabudowanym.

- 4. Przy zmianie kierunku jazdy w prawo na skrzyżowaniu, rowerzysta powinien:**
 - A. Zająć pas ruchu najbliższy prawego krawężnika, zasygnalizować zamiar zmiany kierunku jazdy.
 - B. Sygnalizować zamiar skrętu, wykonując skręt z dowolnego pasa ruchu.
 - C. Skręcić w prawo bez sygnalizacji.

- 5. Kierujący pojazdem, zbliżając się do przejazdu dla rowerzystów:**
 - A. Nie ma obowiązku ustępować pierwszeństwa rowerzyście.
 - B. Jest zobowiązany ustąpić pierwszeństwo rowerzyście.
 - C. Może kontynuować jazdę przed rowerzystą.

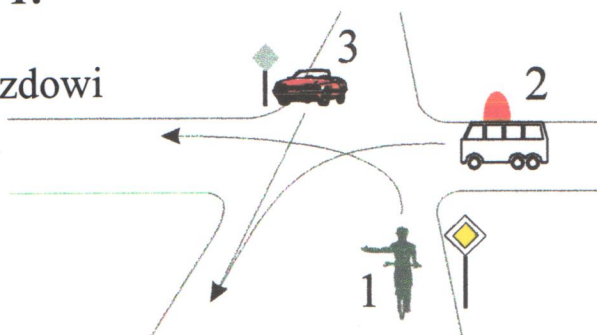
6. Na tym skrzyżowaniu rowerzysta 1:

- A. Ustępuje pierwszeństwa pojazdowi 2.
- B. Przejeżdża ostatni.
- C. Przejeżdża pierwszy.




7. Na tym skrzyżowaniu rowerzysta 1:


- A. Ustępuje pierwszeństwo tylko pojazdowi uprzywilejowanemu.
- B. Ustępuje pierwszeństwa pojazdom 2 i 3.
- C. Przejeżdża pierwszy.



8. Który z poniższych znaków drogowych należy do grupy znaków dodatkowych ustawianych przed przejazdem kolejowym?



B



C




9. Który z poniższych znaków dotyczy ograniczenia prędkości?



B



C



10. Który zestaw słupków wskaźnikowych ustawianych przed przejazdem kolejowym jest prawidłowy?



B



C



**ZADANIA SPRAWDZAJĄCE
WIADOMOŚCI TEORETYCZNE UCZNI
UBIEGAJĄCEGO SIĘ O KARTĘ ROWEROWĄ**

nr 13

Uważnie przeczytaj pytania, zanim udzielisz odpowiedzi.

1. Czy po jezdni mogą poruszać się kolumny pieszych?

- A. Tak, tylko po lewej stronie jezdni.
- B. Tak, zajmując całą szerokość jezdni.
- C. Tak, tylko po prawej stronie jezdni.

2. Odległość między rowerami jednośladowymi poruszającymi się w kolumnie nie może przekroczyć:

- A. 20 m.
- B. 5 m.
- C. Nie jest ustalona.

3. W którym miejscu dozwolone jest zatrzymanie roweru?

- A. W odległości mniejszej niż 10 m przed skrzyżowaniem.
- B. W każdym, jeśli nie stanowi to zagrożenia dla ruchu.
- C. W odległości mniejszej niż 10 m przed przejazdem tramwajowym lub kolejowym.

4. Skracając na skrzyżowaniu dróg w lewo, rowerzysta:

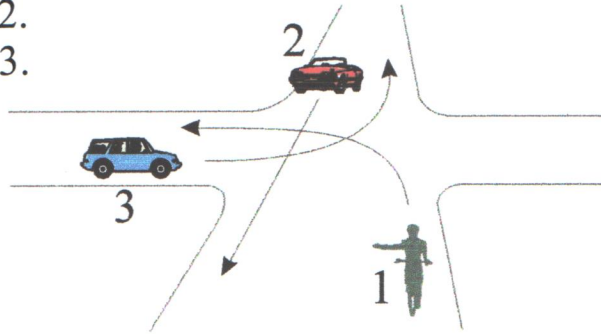
- A. Powinien sygnalizować zawczasu wyraźnie zamiar skrętu, zbliżyć się do osi jezdni.
- B. Sygnalizuje lewą ręką zamiar skrętu.
- C. Nie wykonuje żadnych ruchów sygnalizacyjnych ręką.

5. Włączanie się do ruchu następuje:

- A. Po otwarciu ruchu w naszym kierunku.
- B. Przy wjeżdżaniu z drogi gruntowej na drogę twardą.
- C. Przy zmianie pasa ruchu na jezdni.

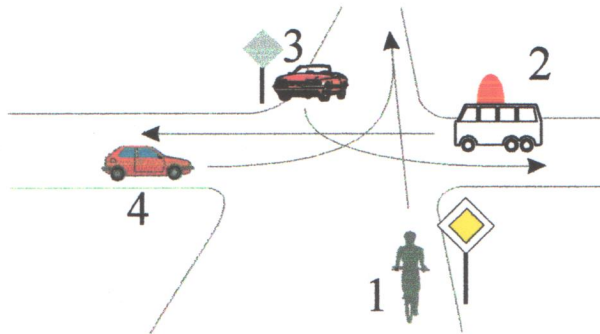
6. Na tym skrzyżowaniu rowerzysta 1:

- A. Ustępuje pierwszeństwa pojazdowi 2.
- B. Ma pierwszeństwo przed pojazdem 2.
- C. Ustępuje pierwszeństwa pojazdowi 3.




7. Na tym skrzyżowaniu rowerzysta 1:

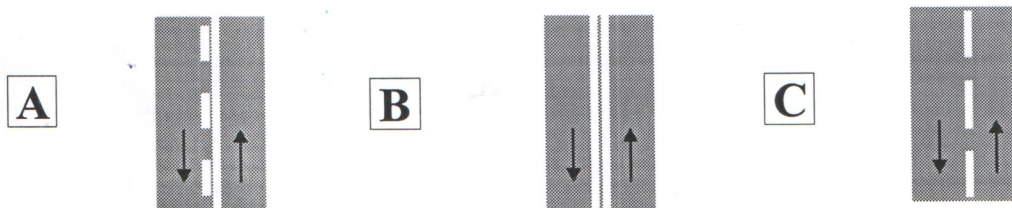
- A. Przejeżdża ostatni.
- B. Przejeżdża pierwszy.
- C. Ustępuje pierwszeństwa tylko pojazdowi uprzywilejowanemu.




8. Który ze znaków drogowych poziomych ma zastosowanie przy ustawianiu znaku STOP?



9. Które z niżej przedstawionych linii można dowolnie przejechać?



10. Który z niżej wymienionych sygnałów dotyczy przejazdów tramwajowych?



**ZADANIA SPRAWDZAJĄCE
WIADOMOŚCI TEORETYCZNE UCZNIĄ
UBIEGAJĄCEGO SIĘ O KARTĘ ROWEROWĄ**

nr 14

Uważnie przeczytaj pytania, zanim udzielisz odpowiedzi.

1. Kolumna dzieci do 10 lat:

- A. Może poruszać się w czasie mgły.
- B. Może poruszać się po prawej stronie jezdni.
- C. Powinna poruszać się po chodniku lub poboczu.

2. Kto odpowiada za przestrzeganie przepisów przez uczestników kolumny rowerowej?

- A. Kierownik kolumny.
- B. Indywidualnie każdy uczestnik kolumny.
- C. Uczestnicy są zwolnieni od przestrzegania przepisów.

3. W którym miejscu dozwolone jest zatrzymanie roweru?

- A. W tunelu, na moście i wiadukcie.
- B. W miejscu nie stanowiącym utrudnienia w ruchu np. plac, podwórko, obok miejsca zabaw.
- C. Na jezdni wzdłuż linii ciągłej.

4. Skracając w lewo z drogi jednokierunkowej, należy:

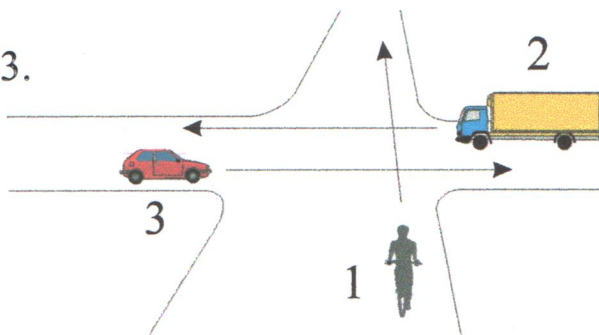
- A. Zająć pas najbliższy lewej krawędzi drogi, zawczasu i wyraźnie sygnalizować zamiar skrętu w lewo.
- B. Skręcać z dowolnego pasa, sygnalizując zamiar skrętu w lewo.
- C. Skręcać z lewego pasa, sygnalizacja jest zbędna.

5. Kierujący pojazdem zbliżając się do drogi (ścieżki) dla rowerów, po której porusza się rowerzysta i pieszy:

- A. Ustupuje pierwszeństwa tylko pieszemu.
- B. Jedzie przed rowerzystą, który ma obowiązek ustąpić pierwszeństwa przejazdu.
- C. Ma obowiązek ustąpienia pierwszeństwa rowerzyście i pieszemu.

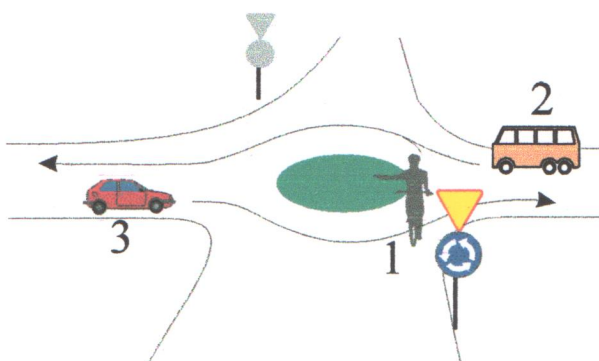
6. Na tym skrzyżowaniu rowerzysta 1:

- A. Ustępuje pierwszeństwa pojazdowi 2.
- B. Przejeżdża ostatni.
- C. Ustępuje pierwszeństwa pojazdowi 3.



7. Na tym skrzyżowaniu rowerzysta 1:

- A. Przejeżdża ostatni.
- B. Przejeżdża pierwszy.
- C. Ustępuje pierwszeństwa tylko pojazdowi 2.



8. Który ze znaków jest znakiem ostrzegającym informującym o skrzyżowaniu z drogą podporządkowaną?

A



B



C



9. Który z poniższych znaków ostrzega przed niebezpieczeństwem bliżej nieokreślonym?

A



B




C




10. Który z poniższych sygnałów nie zezwala na wjazd na przejazd tramwajowy?

A




B



C





**ZADANIA SPRAWDZAJĄCE
WIADOMOŚCI TEORETYCZNE UCZNIĄ
UBIEGAJĄCEGO SIĘ O KARTĘ ROWEROWĄ**

Uważnie przeczytaj pytania, zanim udzielisz odpowiedzi.

1. Piesi, idący jezdnią, powinni iść po lewej stronie:

- A. Obok siebie, nie więcej niż trzech pieszych.
- B. Obok siebie, nie więcej niż czterech pieszych.
- C. Tylko pojedynczo, jeden za drugim.

2. Kierować rowerem może osoba, która:

- A. Posiada zezwolenie na jazdę od rodziców.
- B. Ukończyła 10 lat.
- C. Ukończyła 10 lat, posiada kartę rowerową.

3. W którym miejscu dozwolone jest zatrzymanie się rowerem?

- A. Na chodniku, jeżeli nie utrudnia to ruchu pieszym, pozostawiając pas o szerokości 1, 5 m.
- B. Na pasie między jezdniami.
- C. Na całej długości zatoczki przystankowej.

4. Rowerzysta zmieniając poza skrzyżowaniem zajmowany pas ruchu:

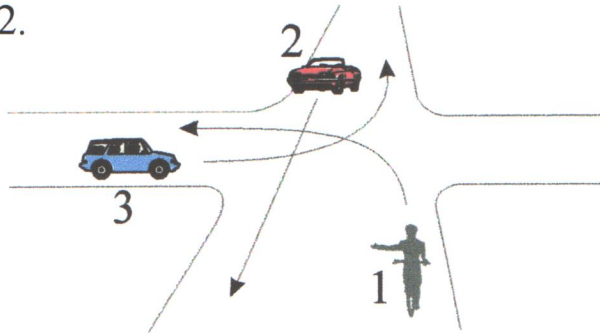
- A. Sygnalizuje tylko zmianę pasa ruchu.
- B. Powinien ustąpić pierwszeństwa pojazdowi jadącemu po pasie ruchu, na który zamierza wjechać.
- C. Zmiana pasa poza skrzyżowaniem jest niedozwolona.

5. Kierującym zabrania się wyprzedzania pojazdu:

- A. Przed i na przejeździe dla rowerzystów.
- B. Na przejeździe, gdzie ruch jest kierowany.
- C. Za przejazdem dla rowerzystów.

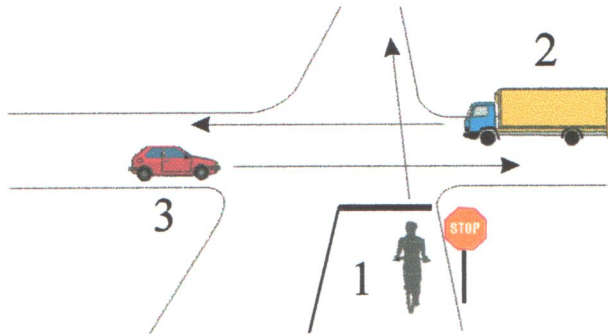
6. Na tym skrzyżowaniu rowerzysta 1:

- A. Przejeżdża pierwszy.
- B. Ustępuje pierwszeństwa pojazdowi 2.
- C. Przejeżdża ostatni.



7. Na tym skrzyżowaniu rowerzysta 1:

- A. Przejeżdża pierwszy.
- B. Przejeżdża ostatni.
- C. Ustępuje pierwszeństwa tylko pojazdowi 2.



8. Który znak informuje o podziemnym przejściu dla pieszych?

A



B




C



9. Który z poniższych znaków nakazuje bezwzględne zatrzymanie się?


A



B




C




10. Który z sygnarów zezwala jechać na wprost przez skrzyżowanie?

A



B



C



**ZADANIA SPRAWDZAJĄCE
WIADOMOŚCI TEORETYCZNE UCZNIA
UBIEGAJĄCEGO SIĘ O KARTĘ ROWEROWĄ**

nr 16

Uważnie przeczytaj pytania, zanim udzielisz odpowiedzi.

1. Pieszy korzystający z drogi (ścieżki) dla rowerzystów, widząc nadjeżdżający rower, powinien:

- A. Ustąpić pierwszeństwa.
- B. Nie ustępować pierwszeństwa.
- C. Zatrzymać się.

2. Dziecko do lat 7 może przewozić rowerem osoba, która:

- A. Ma kartę rowerową.
- B. Ukończyła 17 lat i ma kartę rowerową.
- C. Nie ukończyła 18 lat i nie ma karty rowerowej.

3. Pojazdy uprzywilejowane w ruchu poznajemy po:

- A. Po kolorze nadwozia.
- B. Niebieskim migającym sygnale świetlnym, sygnale dźwiękowym i włączonych światłach mijania.
- C. Po żółtych błyskowych sygnałach.

4. Zawracanie jest dozwolone:

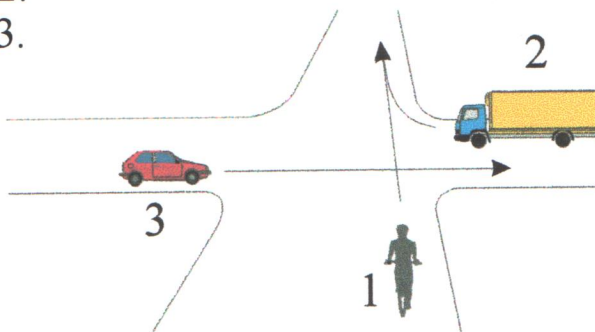
- A. Na drodze jednokierunkowej.
- B. W tunelu, na moście.
- C. Na jezdni o małym ruchu po uprzednim sygnalizowaniu zamiaru z zachowaniem szczególnej ostrożności.

5. Zbliżając się do przejazdu kolejowego, rowerzysta:

- A. Powinien upewnić się, czy do przejazdu nie zbliża się pociąg, nie są zamykane zapory, nie pali się sygnał czerwony.
- B. Sprawdzić czy dróżnik nie stara się nas zatrzymać przy pomocy trąbki lub latarki.
- C. Powinien zatrzymać się i przeprowadzić rower przez przejazd.

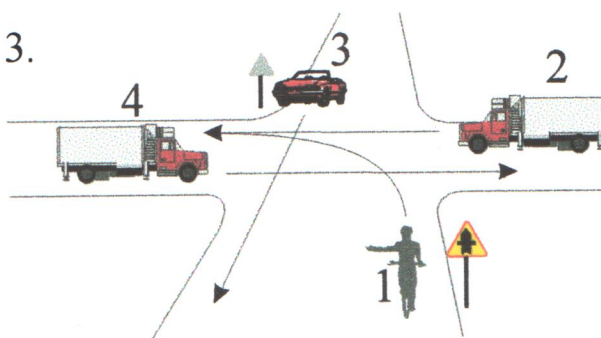
6. Na tym skrzyżowaniu kierujący rowerem 1:

- A. Ustępuje pierwszeństwa pojazdowi 2.
- B. Ustępuje pierwszeństwa pojazdowi 3.
- C. Przejeżdża ostatni.





7. Na tym skrzyżowaniu kierujący rowerem 1:


- A. Przejeżdża pierwszy.
- B. Ustępuje pierwszeństwa pojazdowi 3.
- C. Przejeżdża ostatni.





8. Który z poniższych znaków odwołuje ograniczenie prędkości oraz inne zakazy?



9. Który z poniższych znaków informuje o zmianie organizacji ruchu?



10. Który z poniższych sygnałów zezwala na wjazd na skrzyżowanie?



**ZADANIA SPRAWDZAJĄCE
WIADOMOŚCI TEORETYCZNE UCZNI
UBIEGAJĄCEGO SIĘ O KARTĘ ROWEROWĄ**

nr 17

Uważnie przeczytaj pytania, zanim udzielisz odpowiedzi.

- 1. Osoba niepełnosprawna korzystająca z jezdni, ścieżki dla rowerzystów:**
 - A. Ma pierwszeństwo przed rowerzystą.
 - B. Nie ma pierwszeństwa przed rowerzystą.
 - C. Nie może korzystać ze ścieżki dla rowerzystów.

- 2. Rower powinien być wyposażony w:**
 - A. Lusterko boczne.
 - B. Co najmniej jeden sprawny hamulec.
 - C. Fartuchy przeciwbłotne.

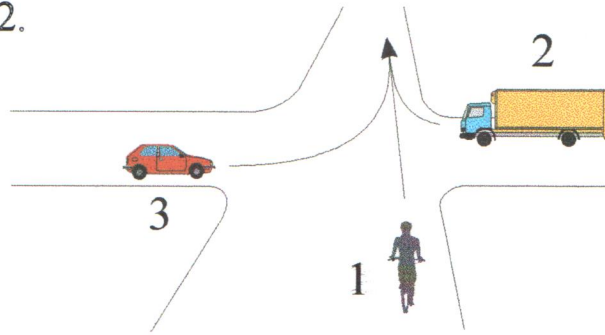
- 3. Jak zachować się przejeżdżając obok pojazdu oznaczonego pomarańczowymi tablicami na przedniej i tylnej płaszczyźnie pojazdu?**
 - A. Zachować dystans, pojazd przewozi materiały łatwopalne, wybuchowe lub żrące.
 - B. Zatrzymać się w pobliżu pojazdu w celu dokonania jego oględzin.
 - C. Nie zwracać uwagi, nie stanowi zagrożenia.

- 4. Zawracanie na drodze jest zabronione:**
 - A. Na drodze oznaczonej linią przerywaną.
 - B. Na skrzyżowaniach dróg.
 - C. W warunkach, w których mogłoby to zagrozić bezpieczeństwu ruchu na drodze lub ruch ten utrudniać.

- 5. Na przejeździe kolejowym rowerzyście zabrania się:**
 - A. Objeżdżać opuszczone zapory lub półzapory.
 - B. Wjeżdżać na przejazd po podniesieniu zapór lub półzapór.
 - C. Przejeżdżania po zapaleniu się sygnału zielonego.

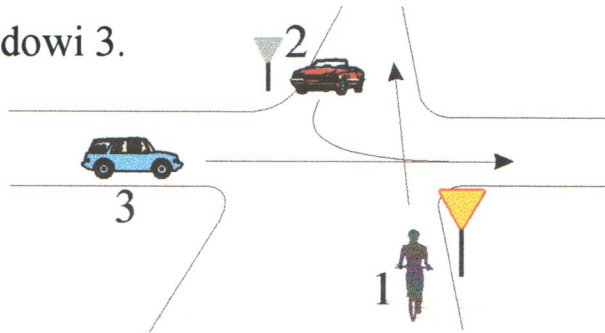
6. Na tym skrzyżowaniu kierujący rowerem 1:

- A. Przejeżdża pierwszy.
- B. Ustępuje pierwszeństwa pojazdowi 2.
- C. Przejeżdża ostatni.




7. Na tym skrzyżowaniu kierujący rowerem 1:

- A. Ustępuje pierwszeństwa tylko pojazdowi 3.
- B. Przejeżdża pierwszy.
- C. Przejeżdża ostatni.




8. Który z poniższych znaków nie pozwala na zmianę pasa ruchu?

A



B



C




9. Który z poniższych znaków ostrzega o możliwości uszkodzenia oka, szyby?

A



B




C



10. Który sygnał dotyczy autobusów poruszających się po wydzielonych pasach ruchu?

A



B



C



**ZADANIA SPRAWDZAJĄCE
WIADOMOŚCI TEORETYCZNE UCZNIĄ
UBIEGAJĄCEGO SIĘ O KARTĘ ROWEROWĄ**

nr 18

Uważnie przeczytaj pytania, zanim udzielisz odpowiedzi.

1. W strefie zamieszkania piesi korzystający z jezdni:

- A. Nie mogą korzystać z jezdni.
- B. Mogą korzystać tylko z chodnika i przejść dla pieszych.
- C. Mogą korzystać z całej szerokości jezdni.

2. Obowiązkowe światła roweru to:

- A. Odblaskowe mocowane na odzieży rowerzysty.
- B. Żółte odblaskowe na pedałach.
- C. Białe z przodu, czerwone z tyłu oraz odblaskowe.

3. Jak przewozić paczki na rowerze?

- A. Nie wolno przewozić paczek, toreb, itp.
- B. Tak, by nie utrudniały kierowaniu pojazdu, nie naruszały stateczności pojazdu.
- C. Nie mogą wystawać poza rower.

4. Z której strony można omijać pojazd skręcający w lewo?

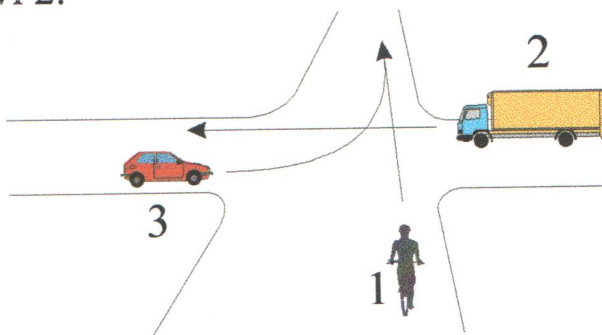
- A. Tylko z lewej strony.
- B. Z lewej i prawej strony.
- C. Tylko z jego prawej strony.

5. Jak zachować się w przypadku propozycji podwiezienia przez osobę nieznaną?

- A. Uzgodnić trasę i koszty przejazdu.
- B. Nie skorzystać z propozycji, bezzwłocznie oddalić się od samochodu.
- C. Z zadowoleniem skorzystać z nadarzającej się okazji.

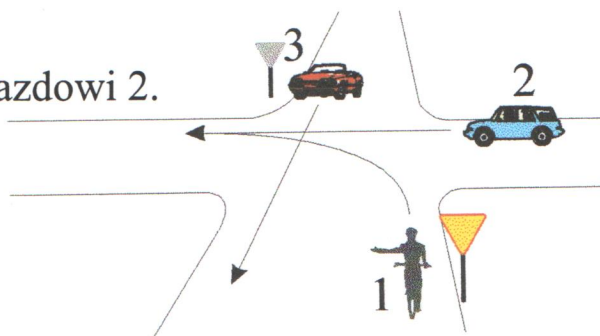
6. Na tym skrzyżowaniu kierujący rowerem 1:

- A. Ustępuje pierwszeństwa pojazdowi 2.
- B. Przejeżdża pierwszy.
- C. Przejeżdża ostatni.



7. Na tym skrzyżowaniu kierujący rowerem 1:

- A. Przejeżdża pierwszy.
- B. Ustępuje pierwszeństwa tylko pojazdowi 2.
- C. Przejeżdża ostatni.



8. Który z poniższych znaków określa długość występowania niebezpieczeństwa na drodze?

A



B



C




9. Który z poniższych zestawów jest niezgodny?

A



B




C




10. Który z poniższych sygnałów zezwala na warunkowy wjazd na skrzyżowanie?

A



B



C



**ZADANIA SPRAWDZAJĄCE
WIADOMOŚCI TEORETYCZNE UCZNI
UBIEGAJĄCEGO SIĘ O KARTĘ ROWEROWĄ**

nr 19

Uważnie przeczytaj pytania, zanim udzielisz odpowiedzi.

1. Pieszemu zabrania się:

- A. Oczekiwać na tramwaj na wysepkach przystankowych.
- B. Wchodzić na jezdnię bezpośrednio przed jadący pojazd.
- C. Chodzić lewą stroną jezdni.

2. Rowerzysta powinien jechać z prędkością uwzględniając:

- A. Kolor roweru.
- B. Ubiór.
- C. Stan i widoczność drogi, natężenie ruchu na drodze.

3. Jak zachować się, widząc wypadek drogowy?

- A. Usunąć się z miejsca zagrożenia.
- B. Nie włączać się do udzielania pomocy ofiarom wypadku.
- C. Jak najszybciej oddalić się z miejsca wypadku.

4. Jak należy postąpić przy wymijaniu na wąskiej drodze?

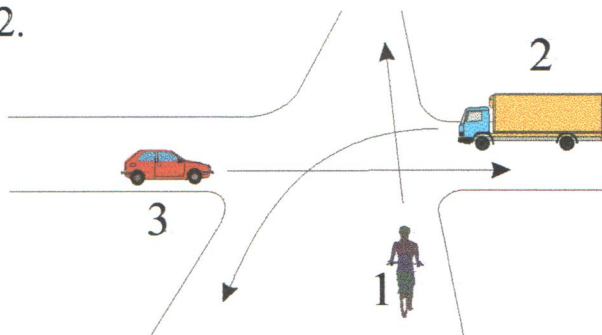
- A. Tylko zmniejszyć prędkość jazdy.
- B. Zjechać najbliżej prawego krawężnika, w razie potrzeby zatrzymać się.
- C. Zawsze zjechać na pobocze.

5. Rowerzysta, zbliżając się do przejazdu tramwajowego:

- A. Powinien sprawdzić, czy do przejazdu nie zbliża się tramwaj lub czy nie pali się sygnał czerwony.
- B. Powinien ocenić, czy zdąży przejechać przed zbliżającym się tramwajem.
- C. Zabrania się wjeżdżać na torowisko przy pulsującym sygnale żółtym.

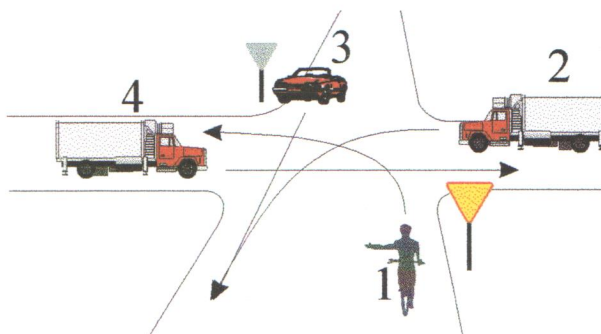
6. Na tym skrzyżowaniu rowerzysta 1:

- A. Przejeżdża pierwszy.
- B. Ustępuje pierwszeństwa pojazdowi 2.
- C. Przejeżdża ostatni.




7. Na tym skrzyżowaniu rowerzysta 1:

- A. Przejeżdża ostatni.
- B. Przejeżdża pierwszy.
- C. Ustępuje pierwszeństwa pojazdowi 2 i 4.



8. Który z poniższych znaków dotyczy możliwości uzyskania pomocy medycznej?

A



B



C



9. Który z poniższych znaków informuje o strefie zamieszkania?

A



B




C



10. Który z poniższych sygnałów dotyczy tylko pieszych?

A



B



C



**ZADANIA SPRAWDZAJĄCE
WIADOMOŚCI TEORETYCZNE UCZNI
UBIEGAJĄCEGO SIĘ O KARTĘ ROWEROWĄ**

nr 20

Uważnie przeczytaj pytania, zanim udzielisz odpowiedzi.

1. Co uważamy za czyn karalny, graniczący ze zbrodniczym?

- A. Umieszczanie wokół drogi reklam, napisów.
- B. Zaśmiecanie drogi.
- C. Usuwanie znaków drogowych, wyłączanie sygnałów ostrzegawczych, zasłanianie sygnałów.

2. Droga to:

- A. Wydzielony pas terenu składający się z jezdni, pobocza, torowiska, przeznaczony do ruchu i postoju pojazdów, ruchu pieszych,
- B. Jezdnia ograniczona krawężnikami,
- C. Jezdnia z chodnikiem.

3. Rowerzyście zabrania się:

- A. Wyprzedzania innych pojazdów.
- B. Kierowania rowerem jedną ręką.
- C. Jazdy po jezdni obok innego uczestnika ruchu.

4. Wyjeżdżając z drogi gruntowej na drogę twardą rowerzysta powinien:

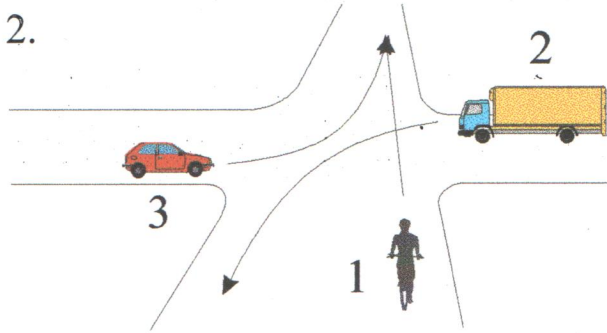
- A. Ustąpić pierwszeństwa pojazdom, pieszym poruszającym się po drodze twardej, zachować szczególną ostrożność.
- B. Ustąpić pierwszeństwa nadjeżdżającym tylko z lewej strony.
- C. Ustąpić pierwszeństwa nadjeżdżającym tylko z prawej strony.

5. Zbliżając się do końca pasa ruchu dla pojazdów powolnych rowerzysta:

- A. Posiada pierwszeństwo przed jadącym pasem z lewej strony.
- B. Jest włączającym się do ruchu.
- C. Zmienia pas na zasadach jak przy wyprzedzaniu pojazdów.

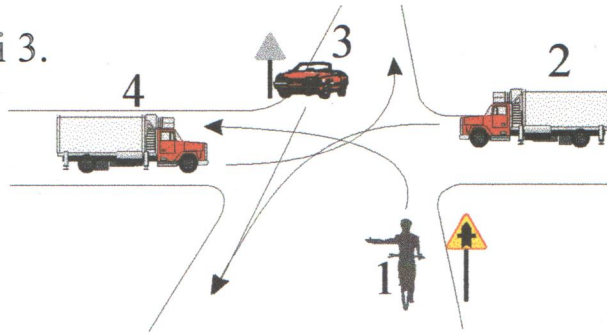
6. Na tym skrzyżowaniu rowerzysta 1:

- A. Przejeżdża pierwszy.
- B. Ustępuje pierwszeństwa pojazdowi 2.
- C. Przejeżdża ostatni.



7. Na tym skrzyżowaniu rowerzysta 1:

- A. Ustępuje pierwszeństwa pojazdowi 3.
- B. Przejeżdża pierwszy.
- C. Przejeżdża ostatni.



8. Który z poniższych znaków zezwala na jazdę rowerów?



9. Który z poniższych znaków informuje o strefie zamieszkania?



10. Który z sygnałów przy nieczynnej sygnalizacji na skrzyżowaniu nakazuje jechać z zachowaniem ostrożności?

